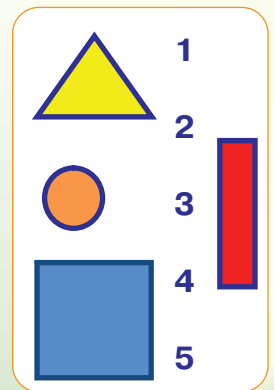
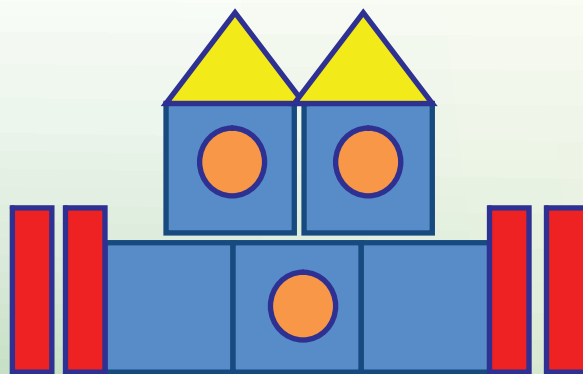
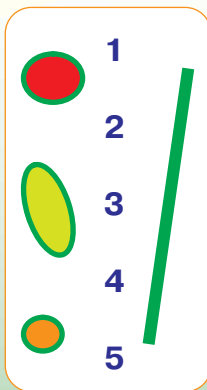




# Гри з цифрами й лічбою

## Завдання 1

Назви фігури, з яких складено малюнки. Порахуй кількість фігур і з'єднай їх з відповідним числом.



## Завдання 2

Обведи бджілку над квіткою жовтим олівцем, а на квітці — зеленим. Розфарбуй метелика, який над лавкою, червоним кольором, а метелика, який на лавці, — блакитним.



## Завдання 3

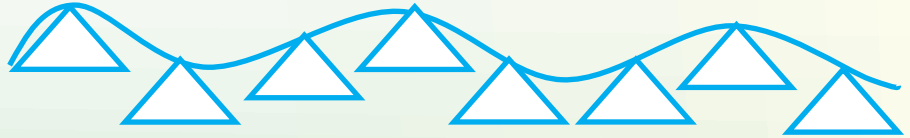
Яка цифра зображена на малюнку? На що схожа ця цифра? Розфарбуй цифру 5 не червоним і не зеленим кольором. У квадратику ліворуч намалюй п'ять цяточок червоним олівцем, у квадратику праворуч — п'ять цяточок зеленим.




## Завдання 4

Чотири квадрати й чотири кола розрізали навпіл, щоб зробити гірлянди. Якої форми є елементи гірлянди із квадрата, розрізаного навпіл? Скільки трикутних частин матимемо із чотирьох розрізаних квадратів?

Розфарбуй гірлянду з трикутників, якщо їх прикріплювали в такому порядку: два трикутники з першого квадрата, два трикутники з третього квадрата, два трикутники з останнього квадрата, два трикутники з другого квадрата.

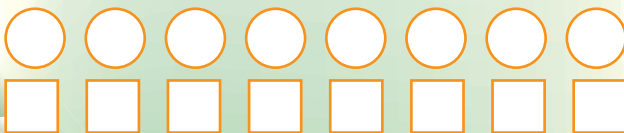


Розфарбуй гірлянду з напівкіл, якщо їх прикріплювали в такому порядку: одне півколо з першого кола, одне півколо з другого кола, одне півколо з третього кола, і все повторили спочатку.



## Завдання 5

Закресли стільки кіл, скільки у двох квіток пелюсток. Перший і шостий квадрати залиш нерозфарбованими. Розфарбуй жовтим кольором стільки квадратів, скільки шишок під ялинкою, а червоним — скільки ягідок суниці.



## Завдання 6

Пронумеруй квартири в будинку справа наліво: у кожній квартирі намалюй кількість цяток, що відповідає її номеру. Назви номери всіх жовтих (червоних, зелених) квартир. Заштрихуй кожну квартиру за зразком.

